

Date : 28/05/2020

Nom:

**EVALUATION HISTOIRE 3e trimestre CM2**  
**Année 2019 – 2020**

| Compétence évaluée  | Objectifs non atteints | Objectifs partiellement atteints | Objectifs atteints | Objectifs dépassés |
|---|------------------------|----------------------------------|--------------------|--------------------|
| - Se repérer dans le temps : construire des repères historiques ; la Première Guerre mondiale |                        |                                  |                    |                    |

**1) Quels sont les deux grand pays qui s'affrontent lors de la Première guerre mondiale? (phrase)**

.....

.....

**2) Classe ces éléments dans le tableau.**

offensive - quelques mois - poilu - fantassin - tranchées -  
plusieurs années

| Guerre de mouvement | Guerre de position |
|---------------------|--------------------|
| .....               | .....              |
| .....               | .....              |
| .....               | .....              |

**3) Pourquoi les soldats creusent-ils des tranchées? (phrase)**

.....

.....







.....

4) Lis le déroulement d'un combat dans les tranchées de 14/18.  
 Surligne les passages qui concernent les attaques en rouge.  
 Surligne les passages qui concernent les défenseurs en vert.  
 Laisse en noir les passages qui concernent les deux adversaires.

**UNE JOURNÉE DE BATAILLE DANS LES TRANCHÉES**

Les artilleurs bombardent les tranchées adverses.  
 Elles subissent un pilonnage ininterrompu car des milliers d'obus sont envoyés.  
 De nombreux soldats sont tués. Les tranchées sont détruites.  
 L'assaut final est donné en fin d'après-midi avec grenades et lance-flammes.  
 Les survivants se défendent pour garder la position de leur tranchée.

5) Identifie les armes nouvelles utilisées pendant la Grande Guerre.

|   |   |   |   |   |   |         |
|---|---|---|---|---|---|---------|
| 1 |    | 2 |   | 3 |   | 1 _____ |
|   |   |   |   |   |   | 2 _____ |
|   |   |   |   |   |   | 3 _____ |
|   |   |   |   |   |   | 4 _____ |
| 4 |  | 5 |  | 6 |  | 5 _____ |
|   |   |   |   |   |   | 6 _____ |

6) De quoi protège ce masque? (phrase)



.....

.....

.....

**7) Que font les femmes pour leur pays pendant la guerre? (phrases)**

.....  
.....  
.....

**8) Quels sont les deux grand alliés de la France? .....**

**Qui est vainqueur? .....**

**Quel est l'homme politique qui organise la victoire? .....**

**Quand les combats s'arrêtent-ils? .....**

**9) Entoure la bonne réponse à cette question: combien cette guerre mondiale a-t-elle tué de soldats?**

**10 000            100 000            1 million            10 millions            100 millions**

**10) Complète ce texte avec les proposés: *Allemagne, armée, paix, sommes d'argent.***

*Le traité de ..... est signé à Versailles entre la France et l'*

*..... . L'Allemagne est privée de son*

*.....*

*Elle doit payer de fortes ..... pour les réparations.*