


# géométrie



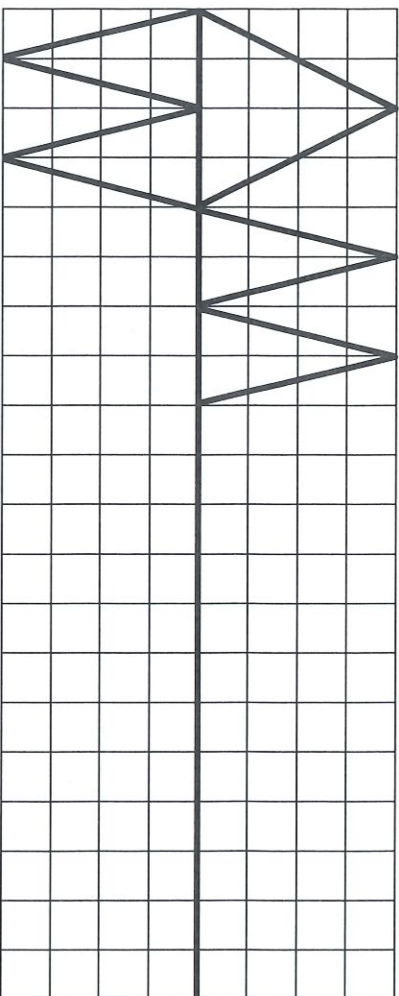
① Colorie de la bonne couleur.



② Construis un triangle scalène ABC avec :

|    |   |   |    |
|----|---|---|----|
| AB | = | 4 | cm |
| BC | = | 6 | cm |
| AC | = | 7 | cm |

③ Continue la frise.



PRÉNOM: .....



<https://mrsstephane.fr/>


|                            |                  |                      |
|----------------------------|------------------|----------------------|
| triangle rectangle         | triangle isocèle | triangle équilatéral |
| BLEU                       | JAUNE            | ROUGE                |
| triangle isocèle rectangle |                  |                      |
| VIOLET                     |                  |                      |

- J'ai vérifié les mesures.
- J'ai nommé les sommets.
- J'ai codé les propriétés.

# géométrie




1) Colorie de la bonne couleur.



2) Construis un triangle scalène ABC avec :

|    |   |   |    |
|----|---|---|----|
| AB | = | 4 | cm |
| BC | = | 6 | cm |
| AC | = | 7 | cm |



J'ai vérifié les mesures.

J'ai nommé les sommets.

J'ai codé les propriétés.

PRÉNOM : .....



<https://motssephane.fr/>

|                            |                  |                      |
|----------------------------|------------------|----------------------|
| triangle rectangle         | triangle isocèle | triangle équilatéral |
| BLEU                       | JAUNE            | ROUGE                |
| triangle isocèle rectangle |                  |                      |
| VIOLET                     |                  |                      |

3) Continue la prise.

